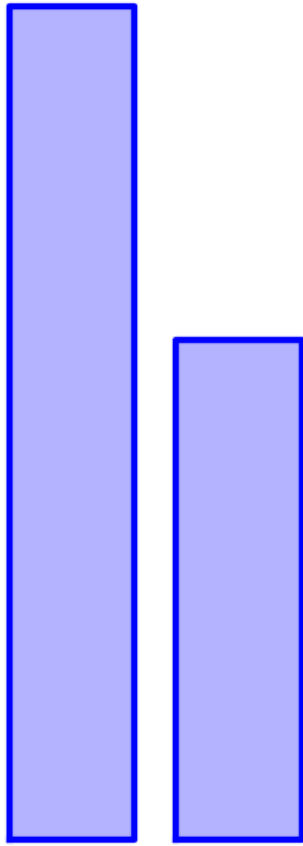


Si la barra de la izquierda tiene área 1, ¿qué área tiene la de la derecha?

0.1 0.2 0.3 0.4 0.5


0.6 0.7 0.8 0.9 1.0



Si la barra de la izquierda tiene área 1, ¿qué área tiene la de la derecha?

0.1 0.2 0.3 0.4 0.5

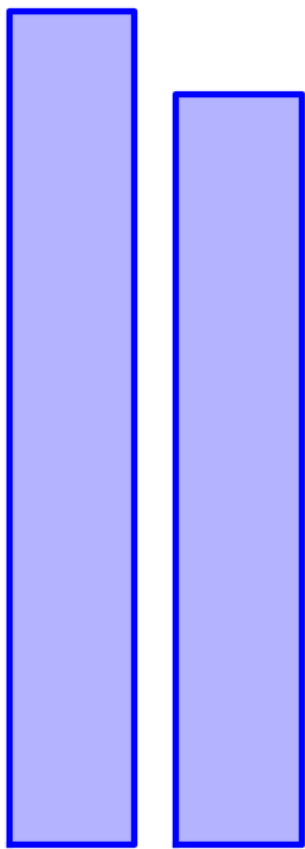
0.6 0.7 0.8 0.9 1.0



Si la barra de la izquierda tiene área 1, ¿qué área tiene la de la derecha?

0.1 0.2 0.3 0.4 0.5

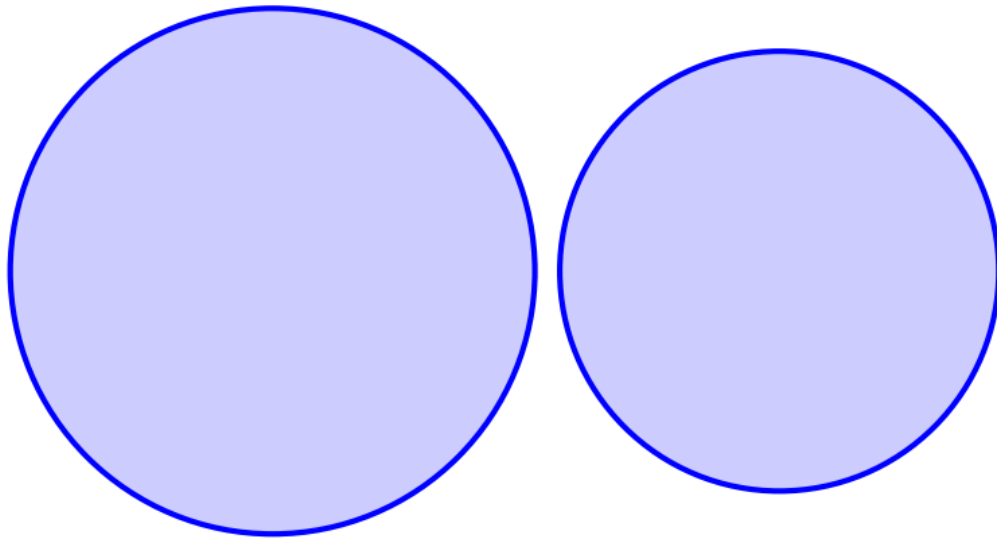
0.6 0.7 0.8 0.9 1.0



Si la barra de la izquierda tiene área 1, ¿qué área tiene la de la derecha?

0.1 0.2 0.3 0.4 0.5

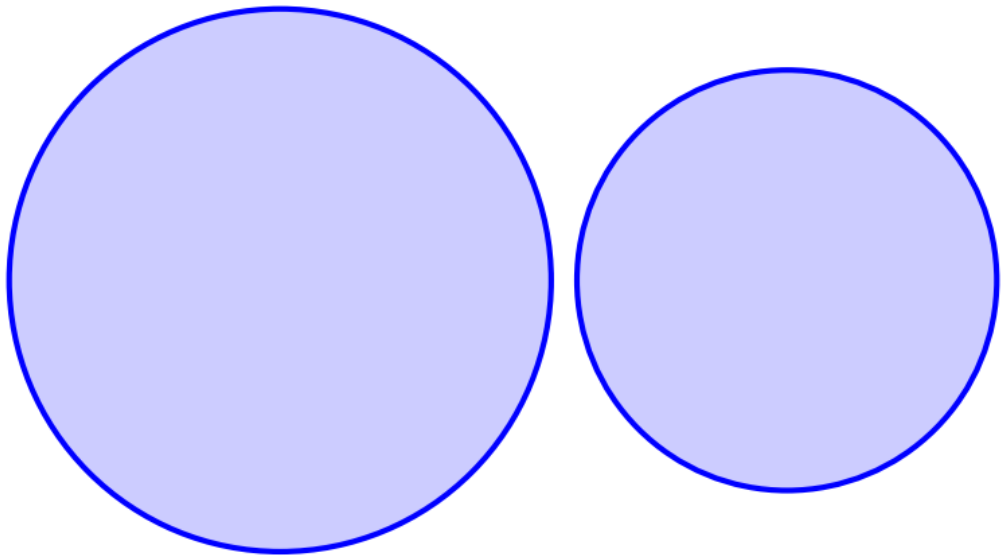
0.6 0.7 0.8 0.9 1.0



Si el círculo de la izquierda tiene área 1, ¿qué área tiene el de la derecha?

0.1 0.2 0.3 0.4 0.5

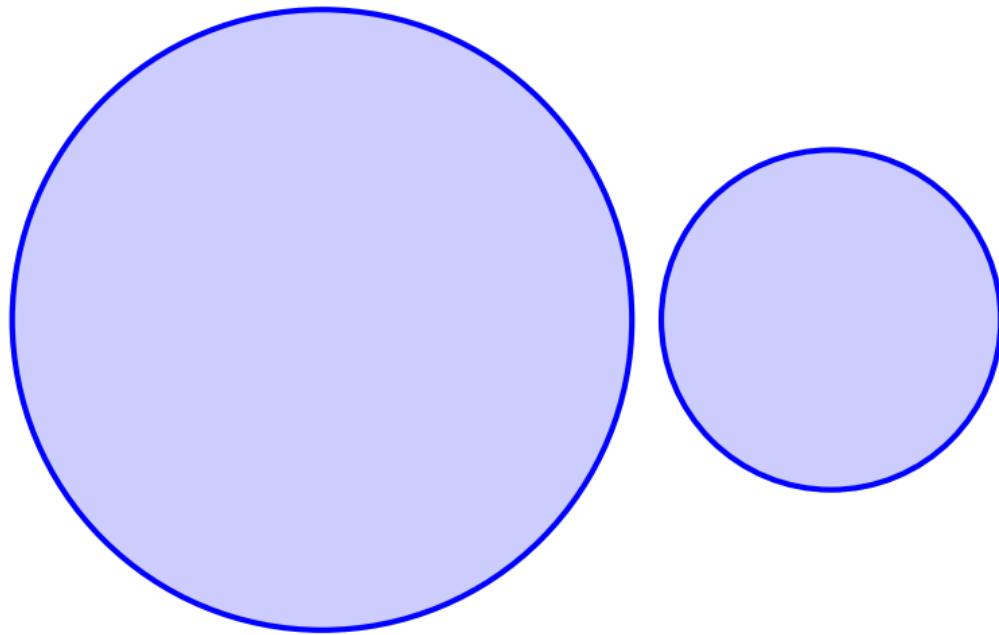
0.6 0.7 0.8 0.9 1.0



Si el círculo de la izquierda tiene área 1, ¿qué área tiene el de la derecha?

0.1 0.2 0.3 0.4 0.5

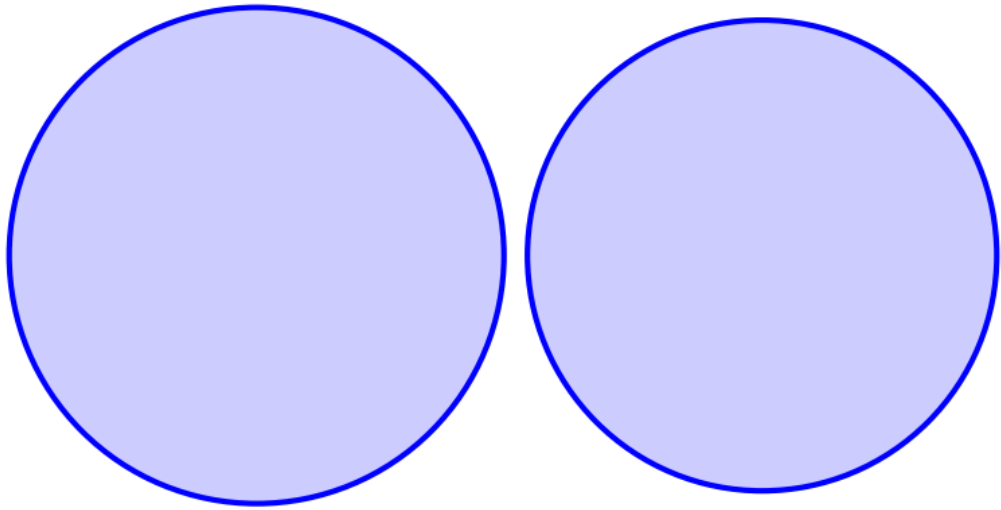
0.6 0.7 0.8 0.9 1.0



Si el círculo de la izquierda tiene área 1, ¿qué área tiene el de la derecha?

0.1 0.2 0.3 0.4 0.5

0.6 0.7 0.8 0.9 1.0



Si el círculo de la izquierda tiene área 1, ¿qué área tiene el de la derecha?

0.1 0.2 0.3 0.4 0.5

0.6 0.7 0.8 0.9 1.0